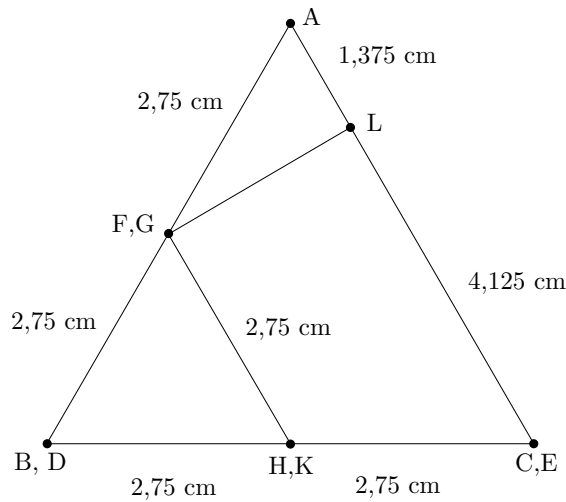


# Wiskunde oefentoets hoofdstuk 10: Meetkunde

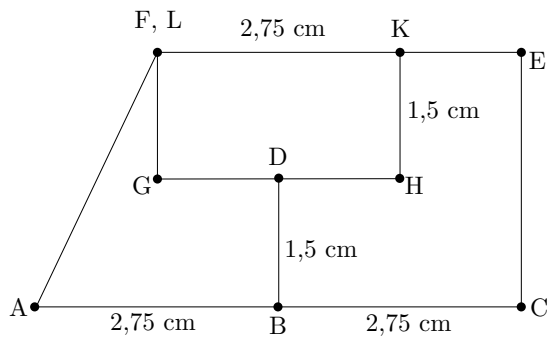
NB: Dit zijn antwoorden. Voor volledige uitwerkingen verwijs ik je door naar het filmpje dat op de site staat. Zorg dat je eigen uitwerkingen volledig zijn. Alleen deze antwoorden zou niet de volle punten opleveren.

Inhoud en aanzicht

3pt 1.



3pt 2.

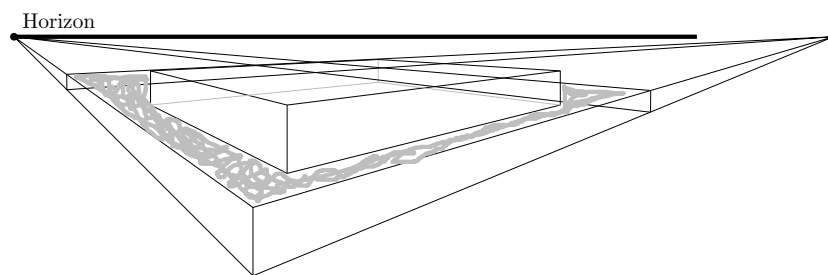


5pt 3.  $I \approx 261,97 \text{ m}^3$

Perspectief

1pt 4. Tweepuntspectief

4pt 5.



Tonnie zijn ton

3pt 6. 311,02 liter

4pt 7. 0,042 liter

Emmer met knikkers

3pt 8.  $I = 7.657,6 \text{ cm}^3$

4pt 9.  $d \approx 67,4 \text{ cm}$

Blije wielrenner

3pt 10. 2,06 meter

2pt 11. 2,17 meter